

Шкала. Координатный луч

Задание 1

Вопрос:

Сопоставьте показания приборов.

Изображение:



Укажите соответствие для всех 3 вариантов ответа:

- 1) 31 градус
- 2) 12 часов 5 минут
- 3) 90 км/ч

- Показания часов
 Показания термометра
 Показания спидометра

Задание 2

Вопрос:

Расстояние между соседними штрихами линейки, называют...

Изображение:



Выберите один из 4 вариантов ответа:

- 1) длина деления 2) стоимость деления
3) цена деления 4) размер деления

Задание 3

Вопрос:

Как называют все деления вместе с написанными числами?

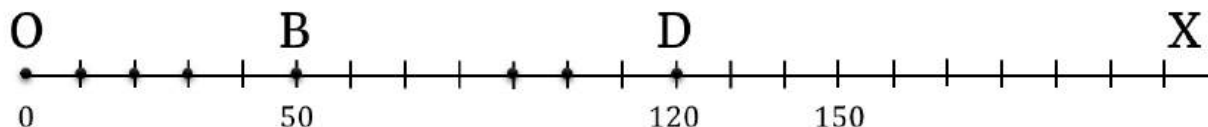
Запишите ответ:

Задание 4

Вопрос:

Укажите, в каком месте будет стоять точка G с координатой 100.

Укажите место на изображении:



Задание 5

Вопрос:

Мальчик отмечал показания термометра вечером и утром. Одно деление шкалы на его термометре составляет 2 градуса. На сколько градусов понизилась температура за ночь, если столбик термометра опустился на 4 деления?

Запишите число:

Задание 6

Вопрос:

Единичный отрезок на координатном луче имеет длину 3 см. Точка A имеет координату 17, а точка B расположена на расстоянии 6 см от точки A. Укажите, какую координату может иметь точка B?

Выберите несколько из 4 вариантов ответа:

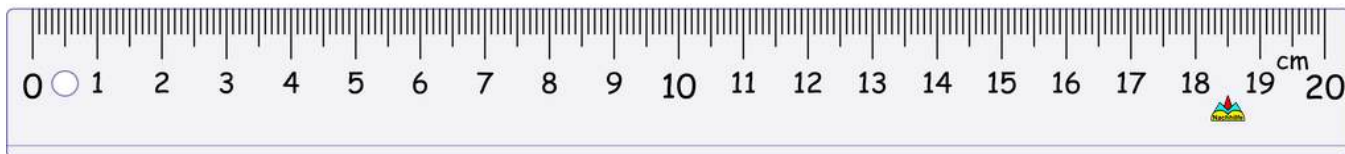
- 1) 11 2) 14 3) 19 4) 15

Задание 7

Вопрос:

Какова цена деления, изображённой линейки?

Изображение:



Выберите один из 5 вариантов ответа:

- 1) 20 см 2) 10 см 3) 1 мм 4) 1 дм 5) 1 см

Задание 8

Вопрос:

Минутная стрелка сделала 3 полных оборота. На сколько делений за это время передвинется часовая стрелка?

Запишите число:

Задание 9

Вопрос:

На линейке нанесены штрихи. Все штрихи расположены на одинаковом расстоянии друг от друга. Все штрихи на линейках разбивают их на равные части. Эти части называют...

Изображение:



Выберите один из 4 вариантов ответа:

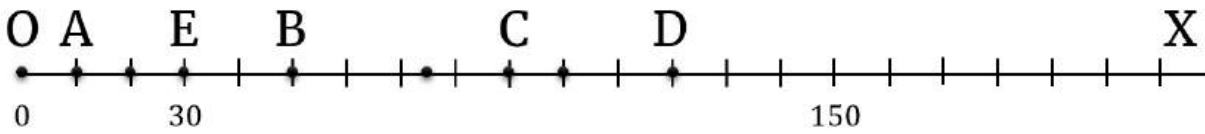
- 1) делениями
- 2) расстоянием
- 3) разделением
- 4) полосочками

Задание 10

Вопрос:

Назовите координаты точек:

Изображение:



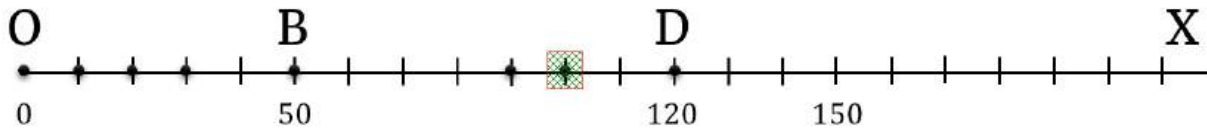
Укажите соответствие для всех 4 вариантов ответа:

- 1) 10
- 2) 50
- 3) 90
- 4) 120

__ D __ A __ C __ B

Ответы:

- 1) (4 б.) Верные ответы: 2; 1; 3;
- 2) (3 б.) Верные ответы: 3;
- 3) (4 б.) Верный ответ: "шкала".
- 4) (4 б.) Верные ответы:



- 5) (5 б.): Верный ответ: 8.;
- 6) (5 б.) Верные ответы: 3; 4;
- 7) (3 б.) Верные ответы: 3;
- 8) (5 б.): Верный ответ: 3.;
- 9) (3 б.) Верные ответы: 1;
- 10) (4 б.) Верные ответы: 4; 1; 3; 2;